

# מתמטיקה לכיתה

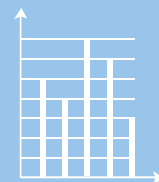
# ח

חלק ב

**דפי עזר לתלמיד**  
**להדפסה עם מקום לכתיבה**





**כל הטבלאות והסרטוטים מהספר**

$$a^2 + b^2 = c^2$$



עמ' 317 , משימה: פלאפל ? פיצה ? צ'יפס ? ספגטי ?

(א)

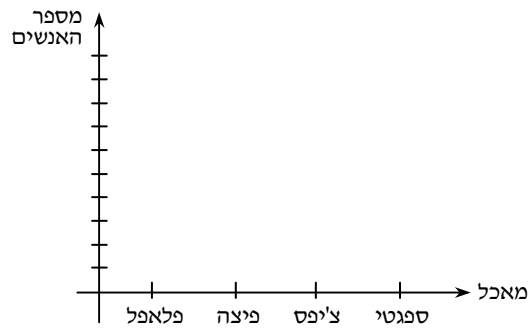
 ספגטי	 צ'יפס	 פיצה	 פלאפל	
<input type="checkbox"/>	<input type="checkbox"/>	<input type="checkbox"/>	<input type="checkbox"/>	משתתף 1
<input type="checkbox"/>	<input type="checkbox"/>	<input type="checkbox"/>	<input type="checkbox"/>	משתתף 2
<input type="checkbox"/>	<input type="checkbox"/>	<input type="checkbox"/>	<input type="checkbox"/>	משתתף 3
<input type="checkbox"/>	<input type="checkbox"/>	<input type="checkbox"/>	<input type="checkbox"/>	משתתף 4
<input type="checkbox"/>	<input type="checkbox"/>	<input type="checkbox"/>	<input type="checkbox"/>	משתתף 5

עמ' 319 , משימה: ארגון הנתונים של הסקר


ב.

ספגטי	צ'יפס	פיצה	פלאפל	סוג המאכל
				מספר האנשים

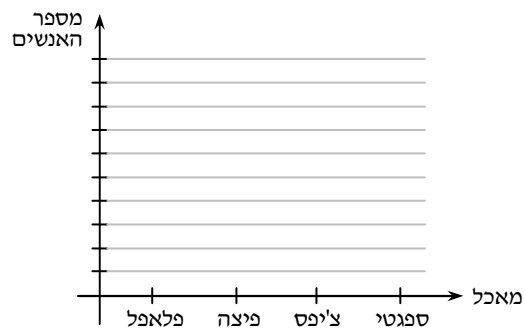
ג.



ד.



ה.



עמ' 322 , שאלה (1)

50	60	70	80	90	100	הציון	(א)
						מספר התלמידים	

עמ' 322 , שאלה (2)

0	1	2	3	4	5	מספר האחים	(א)
						מספר התלמידים	

עמ' 323 , שאלה (4)

הכיתה	הסכום בש"ח	(א)
1ח		
2ח		
3ח		
4ח		
5ח		

עמ' 327 , שאלה (11)

א	ב	ג	ד	ה	ו	שם הרשימה	(ג)
		15%	10%		22%	אחוז המצביעים	
		$\frac{3}{20}$	$\frac{1}{10}$		$\frac{11}{50}$	חלק המצביעים	

עמ' 340 , שאלה (15)

0	1	2	3	4	5	מספר מכשירי הטלפון הסלולאריים	(א)
						מספר משפחות	

עמ' 340 , שאלה (16)

"יים"	"גלים"	"תדר"	"קול"	"קשב רב"	"שי"	שם ספקית התקשורת	(א)
						מספר האנשים	

עמ' 341 , שאלה (17)

5	6	7	8	9	ציון	(א)
					מספר התלמידים	

עמ' 342 , שאלה (18)

0	1	2	3	4	5	6	מספר ההצגות	(א)
							מספר האנשים	

עמ' 367 , שאלה (10)

סך הכול	פגום	תקין	התוצאה	(א)
			מספר הסוללות (השכיחות)	

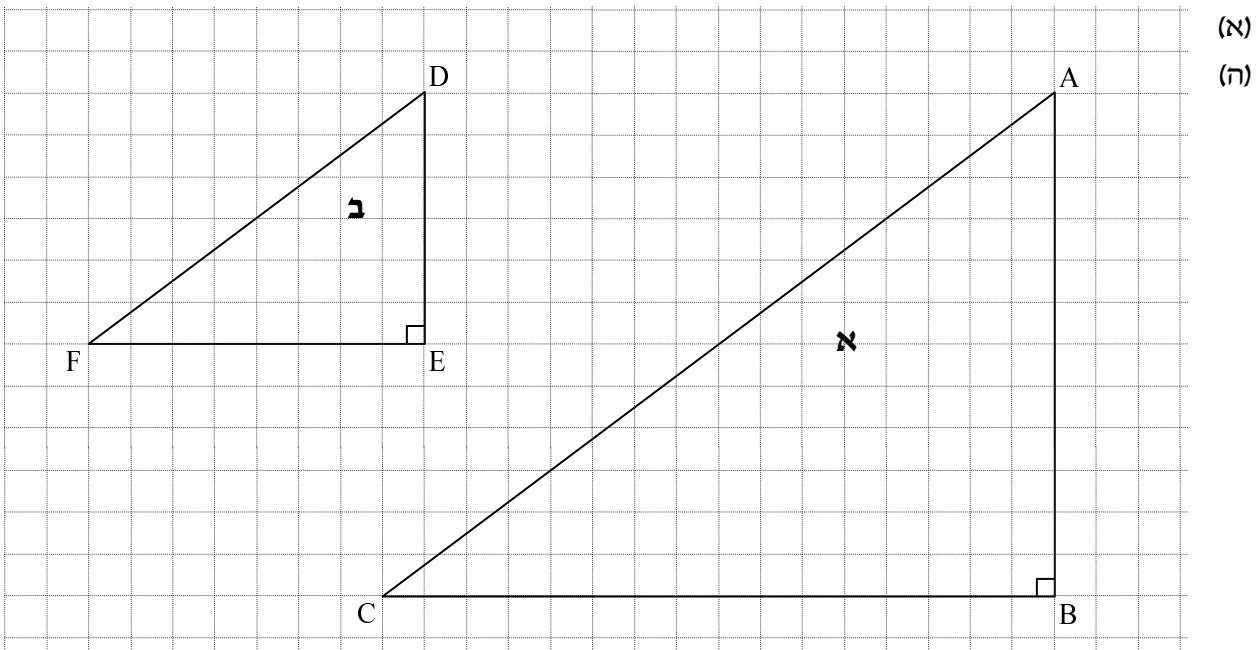
עמ' 368 , שאלה (13)

סוג הפרח	ורד	רקפת	כלנית	נרקיס	סך הכול
מספר הפרחים (השכיחות)					
השכיחות היחסית					

עמ' 372 , שאלה (5)

הציון	10	9	8	7	6	5	4	סך הכול
מספר התלמידים (השכיחות)								

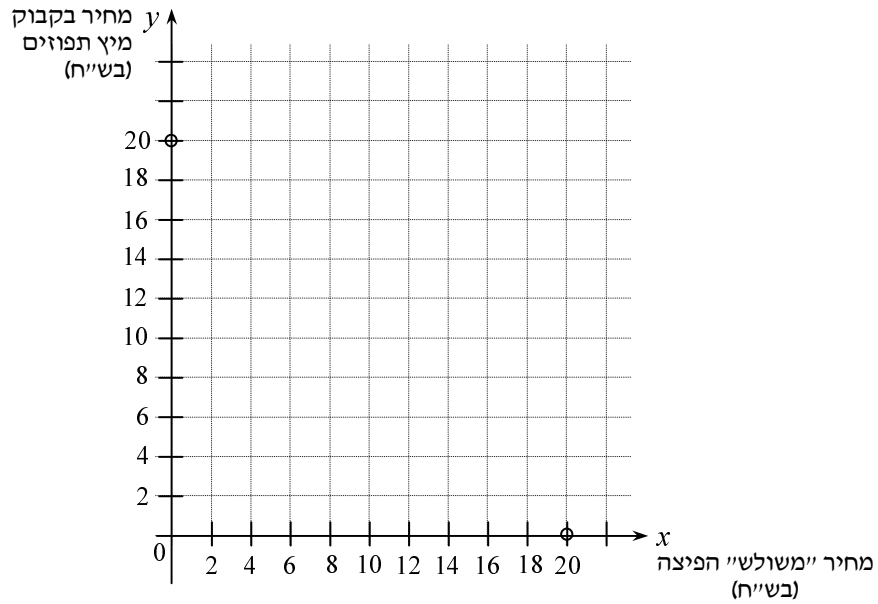
עמ' 379 , משימה: האם דומים?



עמ' 402 , משימה : ממשוואה לגרף

$x$ (מחיר "משולש" הפיצה בש"ח)	1	3	6				18	(א)
$y$ (מחיר בקבוק מיץ תפוזים בש"ח)				10	8	5	2	

(ג)



עמ' 405 , שאלה (9)

$x$	-2	0	2	(א)
$y$				

עמ' 405 , שאלה (10)

$x$	-3	0	2	(א)
$y$				

עמ' 406 , שאלה (11)

$x$	-1	0	4
$y$			

(א)

עמ' 406 , שאלה (12)

$x$	0		3
$y$		0	

(ב)

עמ' 407 , שאלה (14)

$x$		
$y$	0	4

(ב)

עמ' 407 , שאלה (15)

$x$	-6	0	4
$y$			

(ב)

עמ' 408 , משימה : מוצאים נקודת חיתוך

משוואה ②

$x$	-2	0	2	5
$y$				

משוואה ①

$x$	-2	0	2	5
$y$				

(א)

עמ' 411, שאלה (1)

הפתרונות המתאימים למשוואה ②	הפתרונות המתאימים למשוואה ①	(א)

עמ' 411, שאלה (2)

הפתרונות המתאימים למשוואה ②	הפתרונות המתאימים למשוואה ①	(א)

עמ' 411, שאלה (3)

הפתרונות המתאימים למשוואה ②	הפתרונות המתאימים למשוואה ①	(א)

עמ' 412, שאלה (6)

①  $y - x = 2$

$x$	0	2	
$y$			0

②  $y + x = 4$

$x$	-1	0	
$y$			0

(א)

עמ' 413, שאלה (7)

①  $x + y = 8$

$x$	-1	0	6
$y$			

②  $2x - y = 7$

$x$	0	2	6
$y$			

(א)

עמ' 413 , שאלה (8)

②  $y = x + 6$

$x$	-1	1	3
$y$			

 (א)

עמ' 414 , שאלה (9)

②  $x - 2y = 6$

$x$	-2	0	2
$y$			

 (א)

עמ' 414 , שאלה (10)

②  $3x - y = 2$

$x$	-2	0	2
$y$			

 (א)

עמ' 415 , שאלה (11)

①  $x = 4$

$x$			
$y$	-1	0	3

 (א)

②  $y = -2$

$x$	-1	0	3
$y$			

 (ב)

עמ' 422, משימה: מסרטטים

משוואה ①

$x$	-1	0	2
$y$			

משוואה ②

$x$	-1	0	2
$y$			

(א)

עמ' 446, שאלה (1)

שם המוצר	מחיר מוצר אחד בש"ח	כמות המוצרים	סך הכול לתשלום בש"ח
מחברות			
עפרונות			

(א)

עמ' 446, שאלה (2)

שם המוצר	למוצר אחד בש"ח	כמות המוצרים	סך הכול לתשלום בש"ח
חולצה			
סריג			

(א)

עמ' 461, שאלה (1)

שטח ריבוע א (בסמ"ר)	שטח ריבוע ב (בסמ"ר)	שטח ריבוע ג (בסמ"ר)
12	20	
9	15	
30		100
	25	75

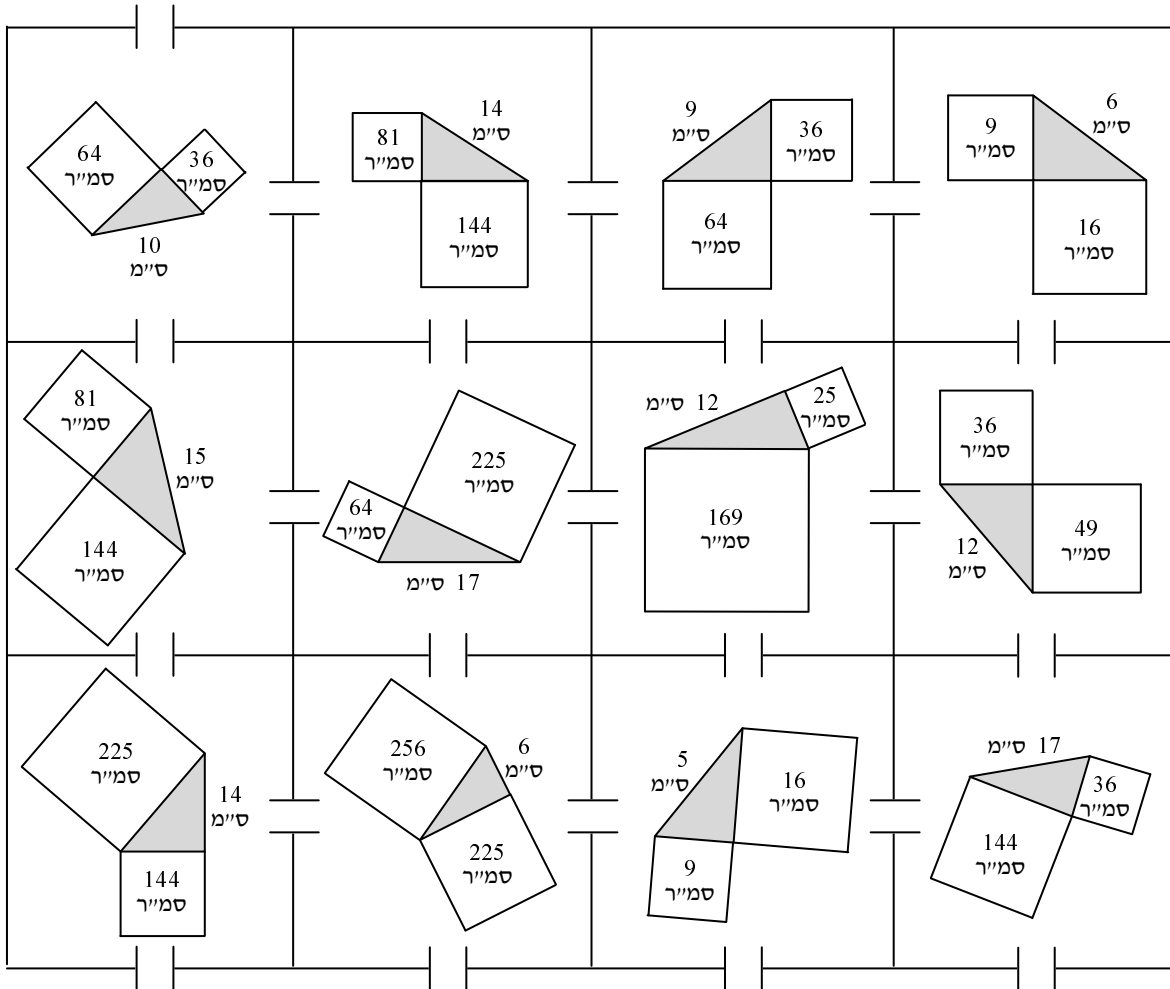
(א)

(ב)

(ג)

(ד)

עמ' 467 , שעשועון (א)



עמ' 488 , שאלה (9)

$x$	-5	-3	-2	-1	0	2
$y$			-1			
$ y $			1			

עמ' 488 , שאלה (10)

$x$	-3	-2	-1	0	1	2	(א)
$y$			0	2			
$ y $			0	2			



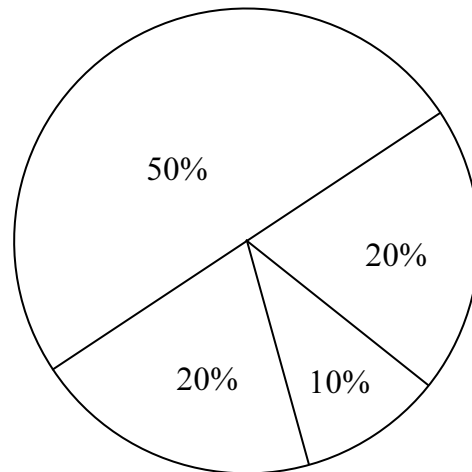
$2x + 4y$	$7 + 5x$	$8a - 7b$	$4x - 7y$
$8 - 16y$	$5xy + 3y$	$12x + 3y$	$a^2 - 3a$
$1 + 5b$	$6a - 7c$	$3x - y$	$2xy - 2b$
$y + 6$	$a + b^2$	$12c - 3x$	$8ay - a$
$6y - x$	$x + 19$	$abc - 9c$	$x^2 + y^2$



עמ' 523 , שאלה (1)

120	126	130	134	הגובה (בס"מ)	(א)
				מספר התלמידים	

עמ' 525 , שאלה (6)



עמ' 526 , שאלה (2)

55	60	70	75	85	90	95	הציון	(א)
							מספר התלמידים	

עמ' 529 , שאלה (11)

25	30	40	50	הגיל	(א)
				מספר האנשים	

עמ' 530 , שאלה (13)

1	2	3	4	מספר הארטיקים	(א)
				מספר הילדים	

עמ' 547 , שאלה (6)

$x$	-3	0	1	(ב)
$y$				

עמ' 547 , שאלה (7)

$x$	-2	0	4	(א)
$y$				

עמ' 547 , שאלה (1)

הפתרונות המתאימים למשוואה ②	הפתרונות המתאימים למשוואה ①	(א)

עמ' 547 , שאלה (2)

הפתרונות המתאימים למשוואה ②	הפתרונות המתאימים למשוואה ①	(א)

עמ' 549 , שאלה (6)

①  $y = 3x + 1$

$x$		0	
$y$			0

②  $y + x = 5$

(א)

$x$		0	
$y$			0

עמ' 549 , שאלה (7)

②  $2y + 5x = 12$

$x$	0	2	4
$y$			

(א)

עמ' 550 , שאלה (8)

②  $x - y = 6$

$x$	-1	0	5
$y$			

(א)

עמ' 550 , שאלה (9)

②  $y = -1$

$x$	-2	0	2
$y$			

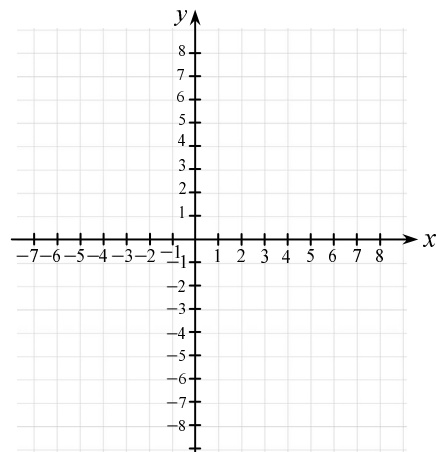
(א)

①  $x = 6$

$x$			
$y$	-4	0	2

(ב)

(ג)



עמ' 558 , שאלה (1)

(א)

שם המוצר	מחיר ק"ג אחד בש"ח	הכמות בק"ג	סך הכול לתשלום בש"ח
תפוחים			
אגסים			

שם המוצר	מחיר ק"ג אחד בש"ח	הכמות בק"ג	סך הכול לתשלום בש"ח
תפוחים			
אגסים			

עמ' 558 , שאלה (2)

(א)

שם המוצר	מוצר אחד בש"ח	כמות המוצרים	סך הכול לתשלום בש"ח
עטים			
מחדדים			

שם המוצר	מוצר אחד בש"ח	כמות המוצרים	סך הכול לתשלום בש"ח
עטים			
מחדדים			

עמ' 560 , שאלה (1)

שטח ריבוע ג (בסמ"ר)	שטח ריבוע ב (בסמ"ר)	שטח ריבוע א (בסמ"ר)	
40		10	(א)
62	42		(ב)
	36	16	(ג)
12	4		(ד)

עמ' 564 , שאלה (1)

הערך המוחלט	המספר הנגדי	המספר
		12
		- 43
		0
	-16	
	54	
	0	

עמ' 565 , שאלה (6)

$x$	-2	-1	0	1	2	3	(א)
$y$			-3				
$ y $			3				

# גבי יקואל

# מִשְׁבֶּצֶת

[www.mishbetzet.co.il](http://www.mishbetzet.co.il)

טלפון: 04-8200929

ספרי לימוד וספרי מבחני מתכונת במתמטיקה

לכל הכיתות • לכל השאלונים • לכל הרמות

